

Les nombres de 0 à 999



1 Complète les compteurs

725	641	564	376	435	885

2 Complète

356		405
332		263


3 Colorie le plus grand nombre, entre les deux colonnes :

500	50	800	700	500	500
60	40	80	50	70	50
2	6	3	2	8	7

Calculs

Semaine 2 période 5

1 Révise la table de 3, colorie les cases :



$3 \times 2 = \underline{\quad}$

$3 \times 3 = \underline{\quad}$

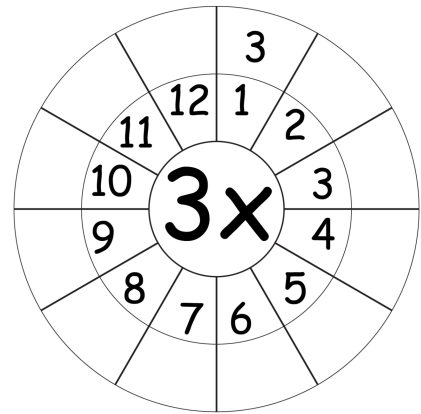
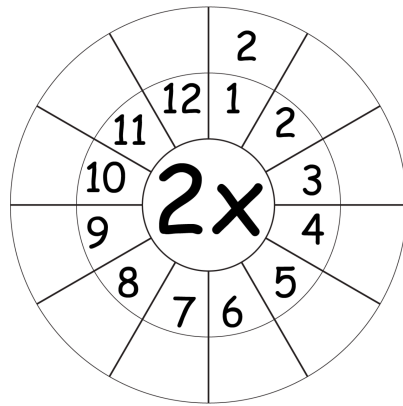
$3 \times 4 = \underline{\quad}$

$3 \times 5 = \underline{\quad}$

$3 \times 6 = \underline{\quad}$

2 Complète

les roues



3 Calcule la soustraction

$$\begin{array}{r} \overset{d}{\square} \overset{u}{\square} \\ \overset{d}{\square} \overset{u}{\square} \\ - \quad \quad \quad \\ \hline \square \quad \square \\ \square \quad \square \end{array}$$

$53 - 28 = \dots$

$$\begin{array}{r} \overset{d}{\square} \overset{u}{\square} \\ \overset{d}{\square} \overset{u}{\square} \\ - \quad \quad \quad \\ \hline \square \quad \square \\ \square \quad \square \end{array}$$

$62 - 37 = \dots$

$$\begin{array}{r} \overset{d}{\square} \overset{u}{\square} \\ \overset{d}{\square} \overset{u}{\square} \\ - \quad \quad \quad \\ \hline \square \quad \square \\ \square \quad \square \end{array}$$



$73 - 38 = \dots$

1 Monnaie

voir annexe 1

Semaine 2 période 5

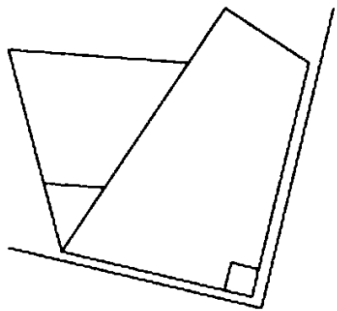

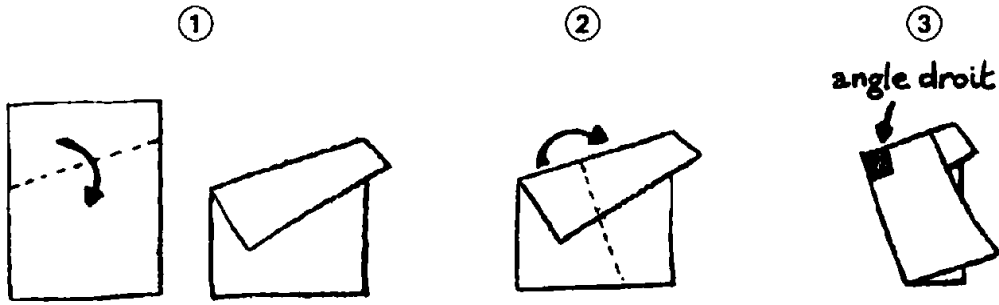
Pour régler tes courses, découpe et colle sous chaque objet, les pièces et billets dont tu auras besoin:



Géométrie

Semaine 2 période 5

1 Fabrique une équerre :



un angle droit

On utilise une.....pour vérifier si un angle est droit.

Recherche des angles droits autour de toi

2 Utilise ton équerre pour terminer ton tableau

Monnaie

Annexe semaine 2

