

Prénom: .....

# Évaluations période 1

Calcule les égalités suivantes

① Calcule:

$2 + 3 = \text{cloud}$

$1 + 1 = \text{cloud}$

$0 + 0 + 2 = \text{cloud}$

$1 + 4 = \text{cloud}$

$3 + 0 = \text{cloud}$

$1 + 2 + 1 = \text{cloud}$

$2 + 0 + 1 = \text{cloud}$

$1 + 1 + 1 = \text{cloud}$

$2 + 1 + 1 = \text{cloud}$

② Complète :

$$\begin{array}{c} 4 \\ \diagdown \quad \diagup \\ 3 + \dots \end{array}$$

$$\begin{array}{c} 3 \\ \diagdown \quad \diagup \\ 1 + \dots \end{array}$$

$$\begin{array}{c} 4 \\ \diagdown \quad \diagup \\ 1 + \dots \end{array}$$

$$\begin{array}{c} 3 \\ \diagdown \quad \diagup \\ 2 + \dots \end{array}$$

$$\begin{array}{c} 5 \\ \diagdown \quad \diagup \\ 2 + \dots \end{array}$$

③ Calcule:

$4 - 2 = \text{cloud}$

$4 - 3 = \text{cloud}$

$5 - 0 = \text{cloud}$

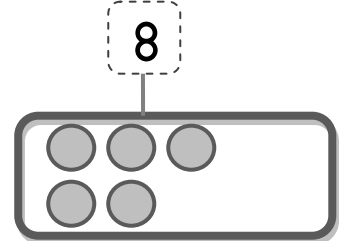
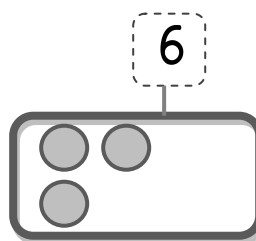
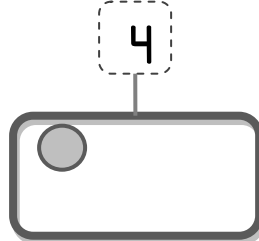
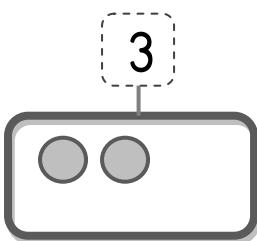
$5 - 3 = \text{cloud}$

$3 - 2 = \text{cloud}$


$4 - 1 = \text{cloud}$

Nombres et quantités de 1 à 10

④ Dessine les billes qui manquent :




⑤ Compte le nombre :




# Évaluations période 1

6 Complète le tableau




7 Complète:



Il y a vaches

Il y a chats

En tout il y a animaux

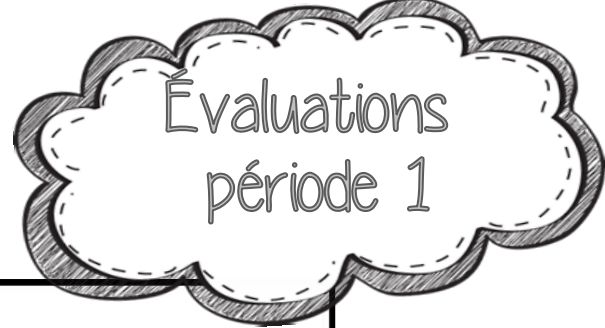
Écris une opération : \_\_\_\_\_

7 Complète le tableau :

4	.	.	.	.	.
4	:	:	:	:	:

2	.	.	.	.	.
3	.	.	.	.	.


Prénom: \_\_\_\_\_



# Tracés à la règle

8 Trace

à la règle:



## Compétences évaluées

Nombres et calculs	Calculer en ligne des additions	EX0 1	
	Connaitre la décomposition additive d'un nombre	EX0 2	
	Calculer en ligne des différences	EX0 3	
	Dénombrer une collection	EX0 4	
	Connaitre les différentes représentations d'un nombre.	EX05	
	Résoudre un problème dans une situation de réunion.	EX06	
	Savoir écrire correctement les nombres	EX07	
Géométrie	Utiliser une règle pour réaliser un tracé.	EX0 8	