





Date : _____

Les nombres de 0 à 20

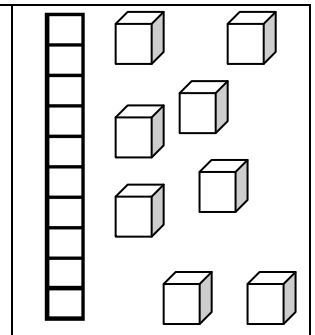
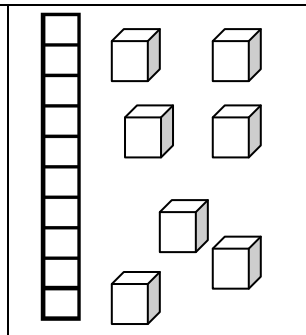
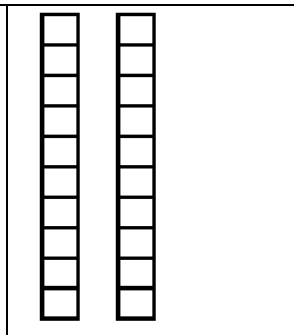
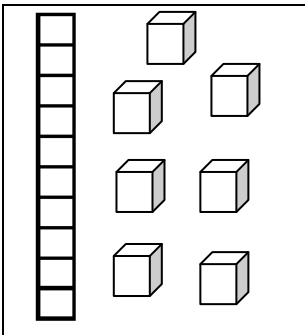
1

Complète avec le bon nombre



2

Complète




3

Complète le tableau :

Nombre avant	Nombre	Nombre après
	14	
	17	
	19	
	10	

4


Complète la bande numérique :



Date : _____

Les nombres de 0 à 25

1




2

Complète :

<u>12</u>	$10+2$
<u>14</u>	
<u>17</u>	
<u>11</u>	

	$10+5$
	$10+3$
	$10+6$
	$10+9$






3



1


Les nombres de 0 à 30


Ecris les nombres manquants :


3	6				26	
									
9	12	17				
						20
			30	
9			
			19					

2

Compte en groupant par 10

	<table border="1"> <tr> <th>Dizaines</th> <th>Unités</th> </tr> <tr> <td><input type="text"/></td> <td><input type="text"/></td> </tr> <tr> <td><input type="text"/></td> <td><input type="text"/></td> </tr> </table>	Dizaines	Unités	<input type="text"/>	<input type="text"/>	<input type="text"/>	<input type="text"/>
Dizaines	Unités						
<input type="text"/>	<input type="text"/>						
<input type="text"/>	<input type="text"/>						

	<table border="1"> <tr> <th>Dizaines</th> <th>Unités</th> </tr> <tr> <td><input type="text"/></td> <td><input type="text"/></td> </tr> <tr> <td><input type="text"/></td> <td><input type="text"/></td> </tr> </table>	Dizaines	Unités	<input type="text"/>	<input type="text"/>	<input type="text"/>	<input type="text"/>
Dizaines	Unités						
<input type="text"/>	<input type="text"/>						
<input type="text"/>	<input type="text"/>						

	<table border="1"> <tr> <th>Dizaines</th> <th>Unités</th> </tr> <tr> <td><input type="text"/></td> <td><input type="text"/></td> </tr> <tr> <td><input type="text"/></td> <td><input type="text"/></td> </tr> </table>	Dizaines	Unités	<input type="text"/>	<input type="text"/>	<input type="text"/>	<input type="text"/>
Dizaines	Unités						
<input type="text"/>	<input type="text"/>						
<input type="text"/>	<input type="text"/>						

Date : _____

Les nombres de 0 à 30

1 Complète à l'aide de < > ou =



12 15

21 12

18 8

19 6

20 12

14 14

2 Ecris les nombres dans l'ordre croissant :

21 - 14 - 3 - 10 - 19 - 27 - 13

Seven empty rounded rectangular boxes for writing the numbers in ascending order.

3 Colorie en suivant le code couleur :

0 rouge	
1 violet	
2 noir	
3 orange	
4 jaune	
5 gris	
6 bleu	
7 vert	
8 marron	
9 rose	

A large illustration of a candle with a complex, geometric pattern of triangles and polygons. The pattern is composed of many small candle icons, each with a flame. The pattern is designed to be colored according to the legend on the left.